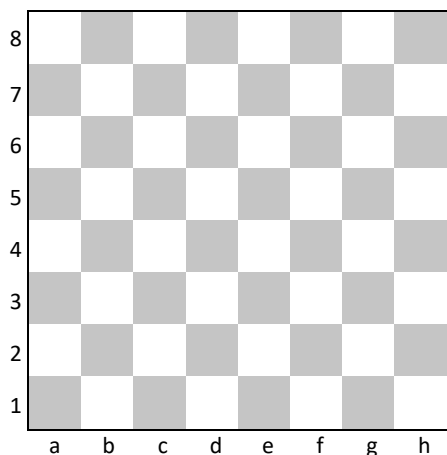


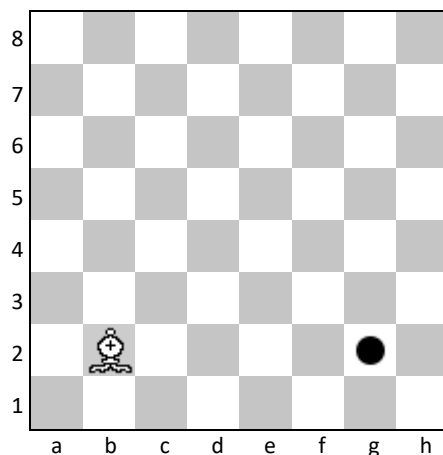
LÄUFER

1



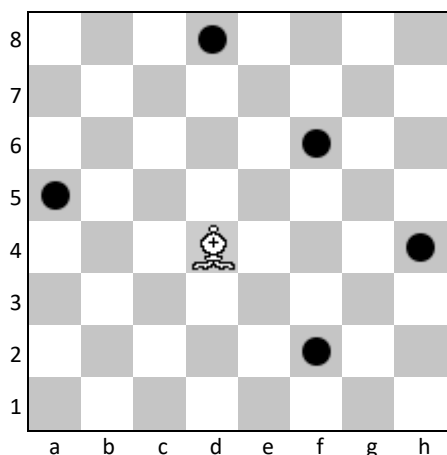
Stelle den Läufer so auf, dass er auf möglichst viele Felder ziehen kann.

2




Wie viele Züge benötigt der weiße Läufer, um zum Ziel zu gelangen?

3




Wie muss der Läufer ziehen, damit er in jedem Zug einen Stein schlagen kann?

4



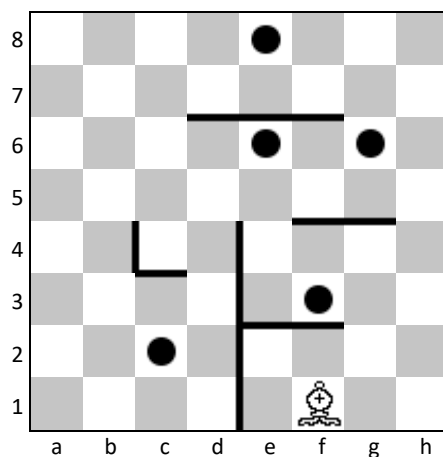
Wie muss der Läufer ziehen, damit er so schnell wie möglich den Bauern f6 schlägt?

5



Wie viele Züge benötigen die Läufer, um alle Bauern zu schlagen?

6



Wie viele Züge benötigt der Läufer, um an jeden Punkt vorbeizukommen?